

מדבקה

תפנית אאא

מבדק אמצע שנה"ל תשס"ו במתמטיקה

שכבה א'

מִתָּר שְׁמוֹשׁ בְּאִמְצֵי הַמְּחֻשָּׁה

לְשׁוֹתְכֶם שְׁעֵתִים

בְּהַצְלָחָה

הַשְּׁלִימוּ :

18 , 17 , 16 , _____ , _____ , _____ (1)

2 , 4 , 6 , 8 , _____ , _____ , _____ (2)

כְּתִבוּ בְּסִפְרוֹת :

(3) חֲמֵשׁ עֶשְׂרֵה _____

פתרו את התרגילים הבאים :

$$0 + 5 = \underline{\hspace{2cm}} \quad (4)$$

$$9 - 0 = \underline{\hspace{2cm}} \quad (5)$$

$$8 - 8 = \underline{\hspace{2cm}} \quad (6)$$

כתבו במלים :

$$\underline{\hspace{10cm}} \quad 13 \quad (7)$$

פתרו את התרגילים הבאים :

$$5 + 5 = \underline{\hspace{2cm}} \quad (8)$$

$$3 + 4 = \underline{\hspace{2cm}} \quad (9)$$

$$8 - 6 = \underline{\hspace{2cm}} \quad (10)$$

$$10 - 3 = \underline{\hspace{2cm}} \quad (11)$$

$$9 + 1 = \underline{\hspace{2cm}} \quad (12)$$

$$20 - 3 = \underline{\hspace{2cm}} \quad (13)$$

$$13 - 2 = \underline{\hspace{2cm}} \quad (14)$$

$$3 + 16 = \underline{\hspace{2cm}} \quad (15)$$

השלימו:

$$10 + 5 < \underline{\hspace{2cm}} \quad (16)$$

$$9 - 3 > \underline{\hspace{2cm}} \quad (17)$$

למשה 9 צבעים . (18)

4 צבעים נשברו .

כמה צבעים שלמים נשארו למשה ?

תרגיל : _____

תשובה : _____

השלימו :

$$12 > \underline{\hspace{2cm}} \quad (19)$$

$$\underline{\hspace{2cm}} < 18 \quad (20)$$

מי אני ?

אני קטן ב-1 מ-9 _____ (21)

אני נמצא אחרי 14 ולפני 16 _____ (22)

אני נמצא בין 9 ל-11 _____ (23)

השלימו:

$$\underline{\hspace{2cm}} + 5 = 15 \quad (24)$$

$$10 - \underline{\hspace{2cm}} = 3 \quad (25)$$

(26) בגנה פורחים 10 נרקיסים ו-7 רקפות .

כמה פרחים פורחים בגנה ?

תרגיל : _____

תשובה : _____

כתבו סימן מתאים $=$, $<$, $>$

$8 + 12$ _____ $12 + 8$ (27)

$16 - 8$ _____ $16 - 4$ (28)

$14 + 5$ _____ $14 + 2$ (29)

(30) רבקה רוצה לשים את 7 הספריות שלה ב-2 שקיות.

מצאו שתי אפשריות לסדור הספריות.

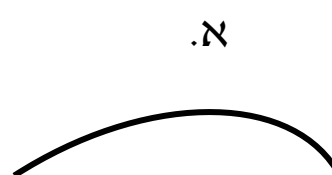
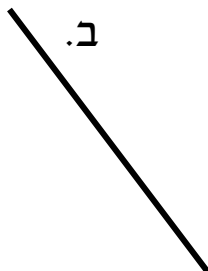
אפשרות א' : בשקית הראשונה _____ ספריות

בשקית השניה _____ ספריות

אפשרות ב' : בשקית הראשונה _____ ספריות

בשקית השניה _____ ספריות

(31) הקיפו את הישר



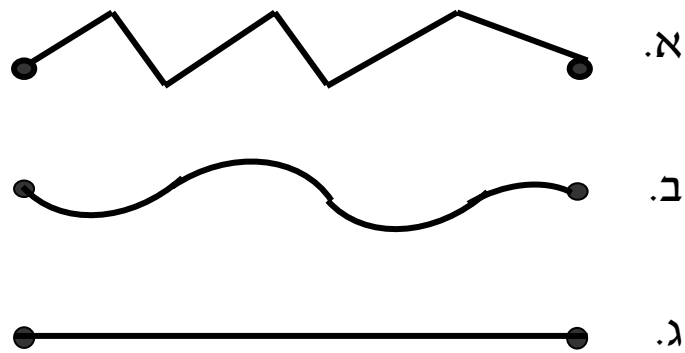
סרטיטו :

(32) קו עקום

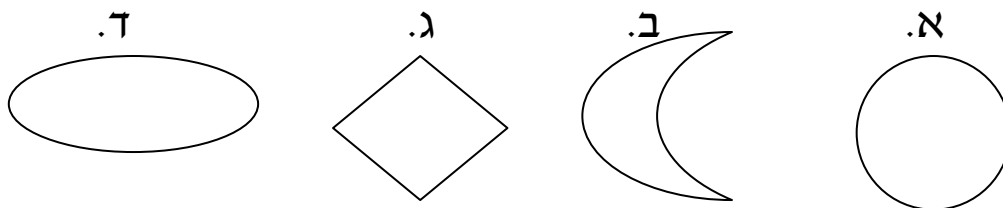
(33) קו שבור

(34) לפניכם שלשה קוים.

הקיפו את הקו שהוא המרחק הקצר ביותר בין 2 הנקודות

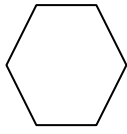


(35) הקיפו את הצורה היוצאת דפן

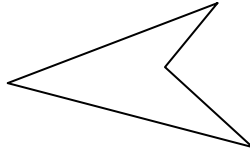


נמקו

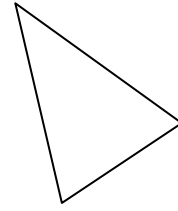
כתבו מתחת לכל מצולע את שמו



_____ (38)

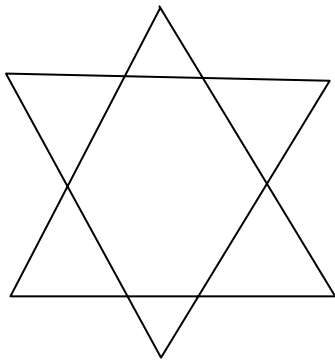


_____ (37)

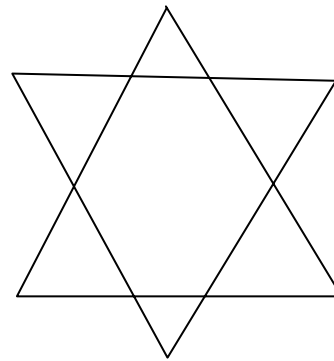


_____ (36)

(39) צבעו בכל מגן דוד מצולע אחר וכתבו את שמו :



_____ שם המצולע שצבעתי



_____ שם המצולע שצבעתי

(40) רונית רוצה למדד את אורך המחברת שלה.

באיזו יחידת מדה עליה להשתמש ?

א. גפרורים ב. צעדים ג. שעות